


I. Repérage dans un pavé droit :

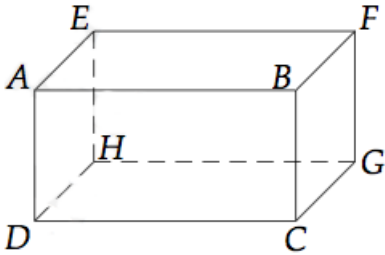
Définition 1



Définition 2

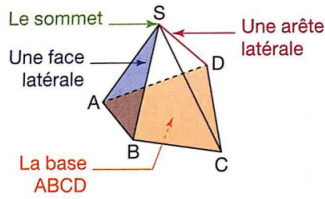



Exemple : Représentation en perspective d'une pyramide et de son patron.

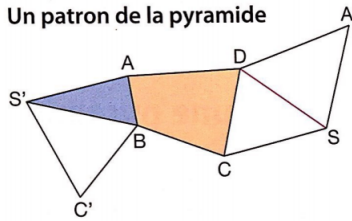


II. Pyramide :

Définition 3



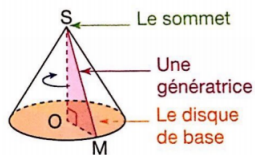

Un patron de la pyramide



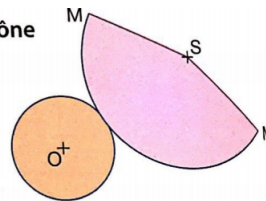
Remarque :

III. Cône :

Définition 4



Un patron du cône



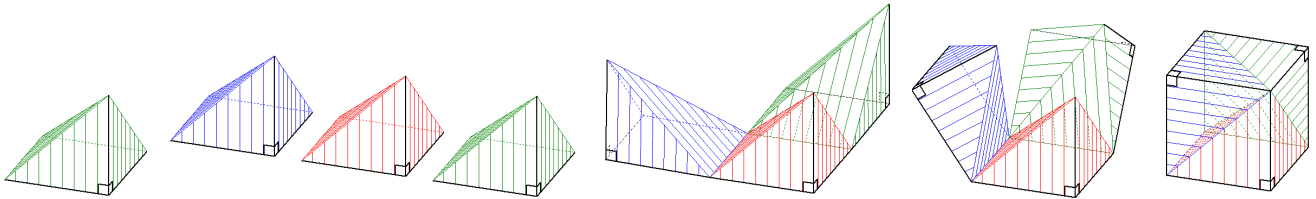
Remarque :

IV. Volume d'une pyramide et d'un cône de révolution :

Proposition 1

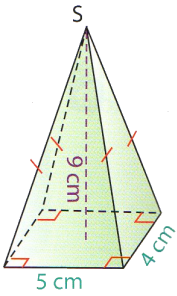


Illustration pour la pyramide :



Exemples :

Déterminer le volume de la pyramide ci-dessous :



Déterminer le volume du cône ci-dessous :

